

Kuva 1



Kuva 2

1. Kuinka moni tyttö suorittaa nykyään peruskoulun viisi ensimmäistä luokkaa maailman kaikissa matalan tulotason maissa?

- A: 20 prosenttia
- B: 40 prosenttia
- C: 60 prosenttia

2. Missä elää maailman väestön enemmistö?

- A: matalan tulotason maissa
- B: keskituloisissa maissa
- C: korkean tulotason maissa

3. Kahdenkymmenen viime vuoden aikana äärimmäisessä köyhydessä elävän väestön osuus on...

- A: lähes kaksinkertaistunut
- B: pysynyt lähes ennallaan
- C: lähes puolittunut

4. Mikä on nykyään maailman elinajanodote?

- A: 50 vuotta
- B: 60 vuotta
- C: 70 vuotta

5. Maailmassa on nykyään 2 miljardia iältään 0–15-vuotiasta lasta. Kuinka paljon lapsia on Yhdistyneiden Kansakuntien mukaan vuonna 2100?

- A: 4 miljardia
- B: 3 miljardia
- C: 2 miljardia

6. YK ennustaa, että vuoteen 2100 mennessä maailman väkiluku kasvaa 4 miljardilla.

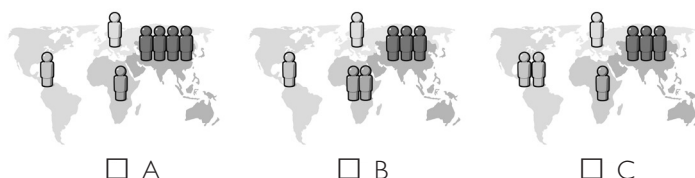
Mikä on kasvun tärkein syy?

- A: on enemmän lapsia (alle 15-vuotiaita)
- B: on enemmän aikuisia (15–74-vuotiaita)
- C: on enemmän vanhuksia (yli 75-vuotiaita)

7. Kuinka paljon luonnononnettomuuksissa vuosittain kuolleiden määrä on muuttunut sadan viime vuoden aikana?

- A: yli kaksinkertaistunut
- B: pysynyt suunnilleen ennallaan
- C: vähentynyt alle puoleen

8. Maailmassa on nykyään pyöreästi 7 miljardia ihmistä. Mikä kartta kuvaa parhaiten missä he elävät? (Kukin hahmo edustaa yhtä miljardia ihmistä.)



9. Kuinka monet maailman yksivuotiaista lapsista rokotetaan nykyään jotain tautia vastaan?

- A: 20 prosenttia
- B: 50 prosenttia
- C: 80 prosenttia

10. Kaikki maailman 30-vuotiaat miehet ovat käyneet koulua keskimäärin 10 vuotta. Kuinka monta vuotta samanikäiset naiset ovat käyneet koulua?

- A: 9 vuotta
- B: 6 vuotta
- C: 3 vuotta

11. Tiikerit, isopandat ja mustasarvikuonot on vuonna 1996 luetteloitu sukupuuton uhkaamiksi. Kuinka moni näistä kolmesta lajista on nykyään entistä uhatumpi?

- A: kaksi
- B: yksi
- C: ei yksikään

12. Kuinka moni maailman ihminen voi käyttää sähköä?

- A: 20 prosenttia
- B: 50 prosenttia
- C: 80 prosenttia

13. Maailman ilmastoasiantuntijat uskovat, että seuraavan sadan vuoden aikana keskilämpötila...

- A: nousee
- B: pysyy samana
- C: laskee

Tässä oikeat vastaukset:

1: C, 2: B, 3: C, 4: C, 5: C, 6: B, 7: C, 8: A, 9: C, 10: A, 11: C, 12: C, 13: A

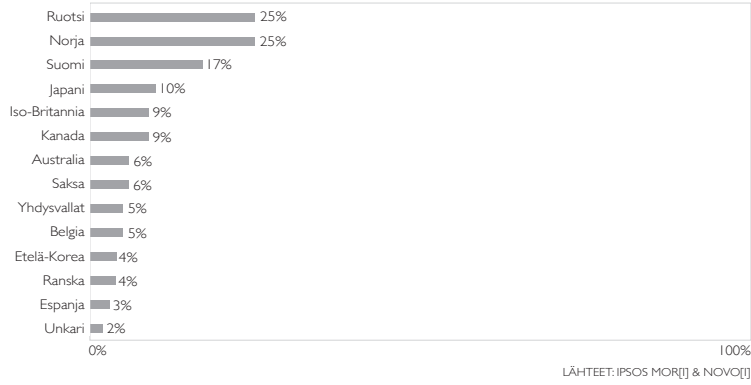
Saat pisteen jokaisesta oikeasta vastauksesta. Kirjoita pistemääräsi paperille.

### Kuva 3

#### FAKTAKYSYMYS 3, TULOKSET: oikein vastanneiden prosentiosuudet.

Kahdenkymmenen viime vuoden aikana äärimmäisessä köyhyydessä elävän väestön määrä on...?

(Oikea vastaus: lähes puoliintunut.)

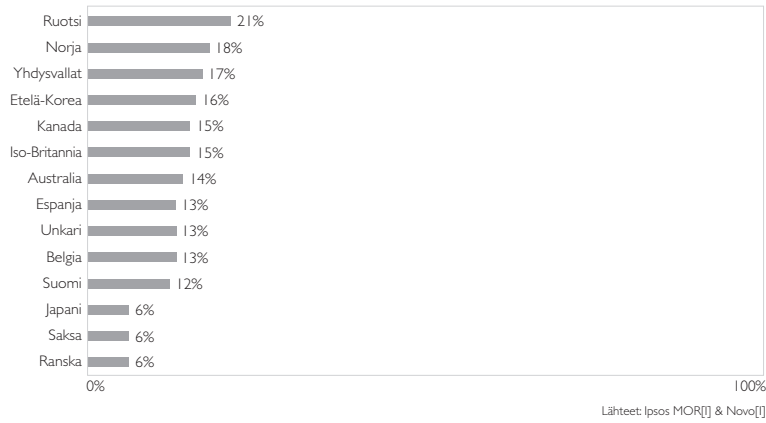


### Kuva 4

#### FAKTAKYSYMYS 9, TULOKSET: oikein vastanneiden prosentiosuudet.

Kuinka moni maailman yksivuotiaista lapsista rokotetaan nykyään jottain tautia vastaan?


(Oikea vastaus: 80%.)



### Kuva 5

#### Optiset harhat ja globaalit harhat

Katso kahta alla olevaa vaakasuoraa viivaa. Kumpi on pitempi?



Lähde: Müller-Lyer illusion